

# FLATlandia

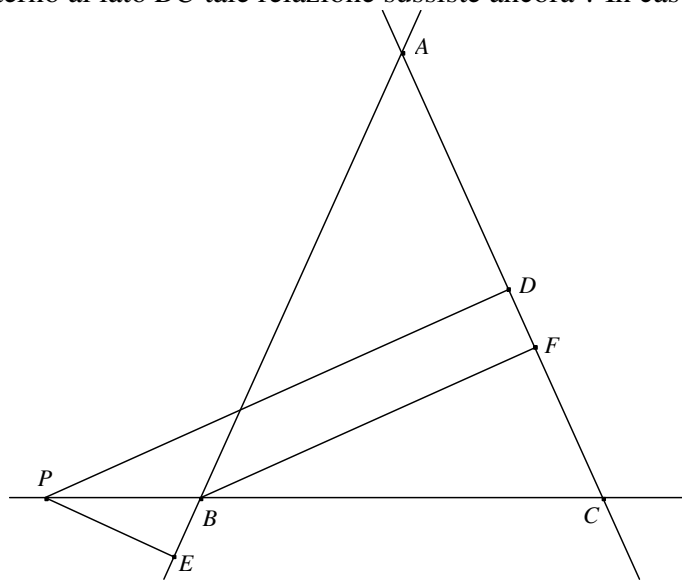
*"Abbi pazienza, ch  il mondo   vasto e largo" ([Edwin A. Abbott](#))*

## Flatlandia 10-26 Maggio 2010

Il testo del problema:

Sia  $ABC$  un triangolo isoscele ( $AB$  e  $AC$  sono i lati uguali). Sul prolungamento di  $BC$  dalla parte di  $B$  si prenda un punto  $P$  e da esso si traccino le perpendicolari  $PD$  e  $PE$  rispettivamente alle rette dei lati  $AC$  e  $AB$ . Detta  $BF$  l'altezza del triangolo  $ABC$  relativa al lato  $AC$ , quale relazione esiste tra i segmenti  $PD$ ,  $PE$  e  $BF$  ?

Se il punto  $P$    interno al lato  $BC$  tale relazione sussiste ancora ? In caso negativo trovarne un'altra.



### Commento

Abbiamo ricevuto quattordici (!) risposte cos  suddivise: una da un Educando Statale, dieci dal biennio delle Scuole Superiori (sei da studenti di una stessa prima) e tre dal triennio delle Scuole Superiori (due del III anno e una addirittura del V anno [che dovrebbe essere considerata "fuori gara"]). Il problema poneva due domande: nel primo quesito si chiedeva di determinare la relazione esistente tra le lunghezze di tre segmenti indicati in figura; nel secondo quesito si chiedeva di verificare la sussistenza o meno della stessa relazione in seguito alla modifica della posizione di uno dei punti della precedente figura e, in caso di risposta negativa, di trovare la nuova relazione esistente tra detti segmenti.

Se da una parte constatiamo con soddisfazione la grande partecipazione alla soluzione dei problemi di Flatlandia, dall'altra dobbiamo rilevare una certa mancanza di accuratezza nella stesura delle risposte e, in alcuni casi, una scarsa attenzione alla costruzione delle figure, anche se i problemi connessi con l'avvicinarsi della conclusione dell'anno scolastico possono in parte giustificare una elaborazione "frettolosa". Riteniamo comunque opportune ribadire alcune norme da seguire nella stesura delle soluzioni:

a) per la scrittura del testo occorre utilizzare un editor compatibile con Word 97-2003 (quindi evitare di inviare file con estensione docx); in particolare non possono essere accettati testi scritti a mano e poi copiati con lo scanner;

b) prima di inserire le figure, controllare che le etichette siano posizionate in modo chiaro in modo da non rendere le figure troppo “affollate” e quindi di difficile lettura [controllare anche che la figura sia aderente al testo del problema ed evitare l’uso del “disegnatore” di Word per la costruzione della figura];

c) se si decide di scrivere la soluzione come la dimostrazione di un teorema (con Ipotesi e Tesi) occorre esplicitare chiaramente anche la Tesi [ad esempio, non si può scrivere in modo generico “la relazione tra i lati ...”].

Il problema di maggio conclude l’impegno di “lavoro” di quest’anno scolastico che ha visto la “rinascita” di Flatlandia.

Cogliamo l’occasione per ringraziare tutti coloro che hanno partecipato a questa rinnovata attività.

Per il prossimo anno scolastico ci auguriamo sia di ritrovare i nostri amici fedeli che di vedere aggiungersi nuovi partecipanti a condividere il progetto Flatlandia.

Sono pervenute risposte dalle seguenti Scuole:

- Educandato Statale “Agli Angeli”, Verona (VR)
- LS “A. Banfi”, Vimercate (MI)
- LS “P. Paleocapa”, Rovigo (RO)
- LS “T. Gullace Talotta”, Roma
- LS “B. Russell”, Roma
- LS “Pitagora”, Rende (CS)
- LS “Aristosseno”, Taranto (TA)
- IIS “L. Cremona”, Milano (MI)

*NOTA. Nelle soluzioni riportate, le correzioni, le aggiunte o i commenti sono scritti fra parentesi quadre. Con doppia parentesi quadra vengono indicate le parti omesse.*

## Soluzioni

### *Eleonora Distinto*

#### *Educandato Statale “Agli Angeli”, Verona(VR)*

[[...]] [Anche se la soluzione risulta sufficientemente corretta, non è possibile pubblicarla in quanto scritta in modo non conforme agli Standard stabiliti per i problemi di Flatlandia]

### *Matteo Gaudiello, Stefano Ronchi*

#### *Classe 1E, LS “A. Banfi”, Vimercate (MI)*

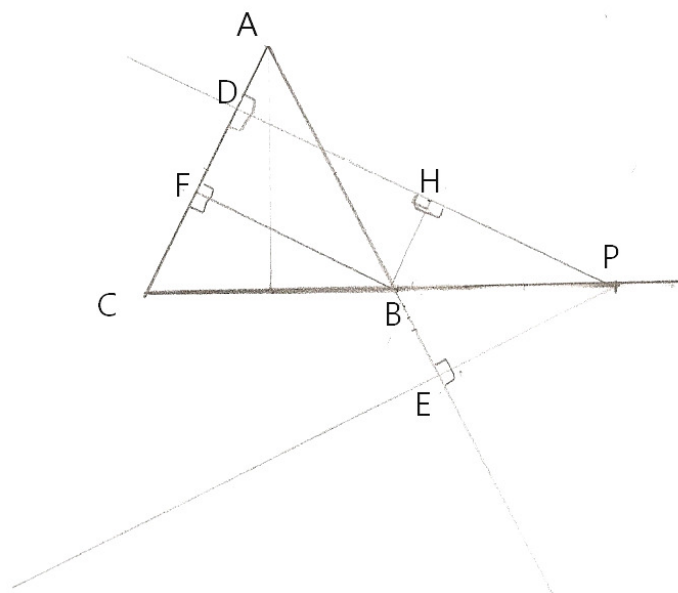
**Hp:**

- $AB \equiv CA$
- $PD \perp CA$
- $PE \perp AB$
- $BF \perp AC$

**Th:** Se  $P \notin BC$ ,  $PD \equiv PE + BF$

Se  $P \in BC$  ? [ $BF \equiv PD + PE$ ]

1. Se  $P \notin BC$



[questa figura “sembra” costruita “a mano”]

Traccio da B la perpendicolare BH a PD.

BHDF è un rettangolo per definizione, poiché ha 3 angoli retti e per il teorema sulla somma degli angoli interni di un poligono, anche il 4° deve essere retto.

Quindi  $DH \equiv BF$  perchè lati opposti in un rettangolo.

Essendo  $\angle FCB + \angle FBC \equiv \pi/2$  [ $\angle FCB + \angle FBC = \pi/2$ ] perchè angoli acuti di un triangolo rettangolo e  $\angle FBC + \angle HBP \equiv \pi/2$  [ $\angle FBC + \angle HBP = \pi/2$ ], poiché  $\angle FBH \equiv \pi/2$  [ $\angle FBH = \pi/2$ ] come precedentemente dimostrato, e  $\angle CBP \equiv \pi$  [ $\angle CBP = \pi$ ], per la proprietà transitiva [per le proprietà della relazione di uguaglianza [risulta  $\angle HBP = \angle FCB$  e quindi anche]  $\angle HBP \equiv \angle FCB$ . Ma  $\angle FCB \equiv \angle ABC$  perchè angoli alla base di un triangolo isoscele, e  $\angle ABC \equiv \angle PBE$  perchè opposti al vertice, quindi per la proprietà transitiva [della congruenza fra angoli]  $\angle HBP \equiv \angle EBP$ .

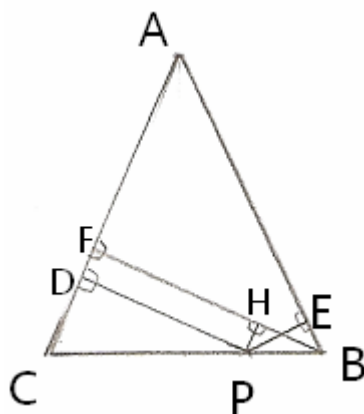
Considero i triangoli rettangoli HPB e PBE, essi hanno:

- BP in comune,
- $\angle PBE \equiv \angle HBP$  come precedentemente dimostrato.

Quindi sono congruenti per i criteri di congruenza dei triangoli rettangoli, in particolare  $PE \equiv HP$  perchè lati corrispondenti in triangoli congruenti.

Ma  $PD \equiv DH + HP$ , quindi per la proprietà transitiva [per le proprietà della relazione di congruenza fra segmenti]  $PD \equiv PE + BF$ .

2. Se  $P \in BC$



[anche questa figura

“sembra” costruita “a mano”]

La relazione  $PD \equiv PE + BF$  non sussiste più, infatti si ha che  $BF \equiv PE + PD$  [[, poiché:]]

[A tale scopo] Traccio da P la perpendicolare PH a BF.

PHDF è un rettangolo per definizione, poiché ha 3 angoli retti e per il teorema sulla somma degli angoli interni di un poligono, anche il 4° deve essere retto.

Quindi  $FH \equiv DP$  perché [perché] lati opposti in un rettangolo.

$\angle DCP + \angle DPC \equiv \pi/2$  [ $\angle DCP + \angle DPC = \pi/2$ ] perché angoli acuti in un triangolo rettangolo e  $\angle DPC + \angle HPB \equiv \pi$  [ $\angle DPC + \angle HPB = \pi/2$ ], poiché  $\angle HPD \equiv \pi/2$  e  $\angle CPB \equiv \pi$  [ $\angle HPD = \pi/2$  e  $\angle CBP = \pi$ ], quindi per la proprietà transitiva [per le proprietà della relazione di uguaglianza risulta  $\angle DCP = \angle HPB$  e quindi anche]  $\angle DCP \equiv \angle HPB$ , ma  $\angle DCP \equiv \angle EBP$  perché angoli alla base di un triangolo isoscele, allora per la proprietà transitiva [della congruenza fra angoli]  $\angle HPB \equiv \angle EBP$ .

Considero i triangoli rettangoli HPB e EPB, essi hanno:

- PB in comune,
- $\angle HPB \equiv \angle EBP$  come precedentemente dimostrato.

Quindi sono congruenti per i criteri di congruenza dei triangoli rettangoli, in particolare  $PE \equiv HB$  perché lati corrispondenti in triangoli congruenti.

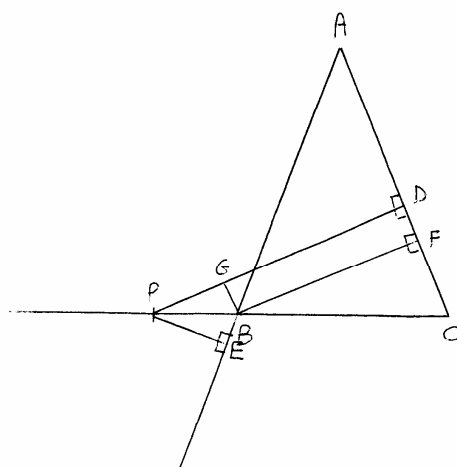
Quindi dato che  $BF \equiv FH + HB$ , per la proprietà transitiva [per le proprietà della relazione di congruenza fra segmenti]  $BF \equiv DP + PE$ .

C.V.D.

**Stefano Biffi**

**Classe 1E, LS "A. Banfi", Vimercate (MI)**

[L'Ipotesi, la Tesi e la figura non possono essere elaborate "a mano", poi catturate con uno scanner e inserite nel documento]



HP:  $\triangle ABC$  ISOSCELE  
 $PD \perp AC$   
 $BF \perp AC$   
 $PE \perp BF$

TH: RELAZIONE TRA I LATI:  
 $PE, PD, BF$

**Dimostrazione:**

Da B traccio la perpendicolare al segmento PD e sia G il punto in cui tale perpendicolare incontra il segmento PD.

Il quadrilatero GBDF [GBFD] è un rettangolo per definizione (gli angoli  $\angle GDF$  e  $\angle DFB$  sono retti per ipotesi, l'angolo  $\angle BGD$  è retto per costruzione, l'angolo  $\angle GBF$  [è retto] per differenza di angoli ( $360^\circ$ -somma altri tre)), quindi GD è congruente a BF perché lati opposti in un rettangolo.

L'angolo  $\angle FCB$  è congruente all'angolo  $\angle ABC$  perché angoli alla base in un triangolo isoscele.

L'angolo  $\angle PBE$  è congruente all'angolo  $\angle ABC$  perché opposti al vertice.

Quindi per la proprietà transitiva della congruenza [fra angoli] l'angolo  $\angle ABC$  è congruente all'angolo  $\angle PBE$ .

L'angolo  $\angle BPE$  è congruente all'angolo  $\angle FBC$  perché complementari di angoli congruenti.

L'angolo  $\angle GPB$  è congruente all'angolo  $\angle FBC$  perché angoli corrispondenti formati dalle parallele PD e FB (perpendicolari a una stessa retta) e tagliate dalla trasversale PC.

Quindi gli angoli  $\angle GPB$  e  $\angle BPE$  sono congruenti per la proprietà transitiva della congruenza [fra angoli].

Considero i triangoli rettangoli PGB e PEB; essi hanno:

PB in comune

l'angolo  $\angle GPB$  congruente all'angolo  $\angle BPE$  come precedentemente dimostrato.

Perciò i due triangoli sono congruenti per i criteri di congruenza dei triangoli rettangoli. in particolare PG è congruente a PE perché lati corrispondenti in triangoli congruenti.

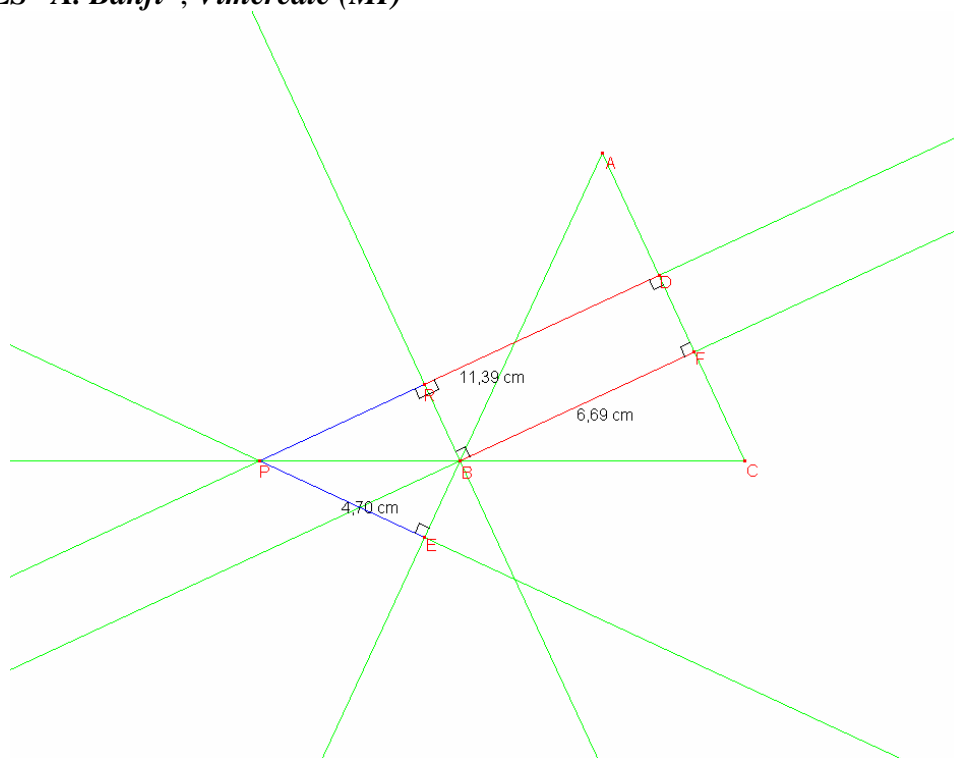
Quindi PD è congruente alla somma di BF e di PE.

Se P appartiene a BC il lato PD è la differenza tra BF e PE [e la dimostrazione?].

**c.v.d.**

*Nicolò Cristiani*

*Classe 1E, LS "A. Banfi", Vimercate (MI)*



HP: AB = AC  
 PD perpendicolare AC  
 PE perpendicolare AB  
 BF perpendicolare AC

TH:  $PE+BF=PD$

Traccio da B la perpendicolare a PD, che interseca PD nel punto R.

Quindi, essendo R un punto del segmento PD,  $PR+RD=PD$ .

Considero il quadrilatero BFDR: gli angoli  $\angle BFD$  e  $\angle FDR$  sono retti per HP [ipotesi], mentre l'angolo  $\angle BRD$  è retto per costruzione.

Quindi, poiché la somma degli angoli interni di un quadrilatero è di  $360^\circ$ , anche l'angolo RBF sarà retto. Quindi, avendo quattro angoli retti, BFDR è un rettangolo.

Poiché i lati opposti di un rettangolo sono congruenti,  $RD = BF$ .

[Inoltre] BR parallela CA perché perpendicolari allo stesso segmento PD.

Considero il triangolo isoscele ABC: [[l'angolo]] [risulta]  $\angle ABC = \angle ACB$  perché angoli alla base di un triangolo isoscele l'angolo [e inoltre]  $\angle ACB = \angle RBP$  perché angoli corrispondenti formati dalle rette parallele AC e RB (come precedentemente dimostrato) tagliate dalla trasversale PC.

Quindi  $\angle RBP = \angle ABC$  per la proprietà transitiva della congruenza [fra angoli].

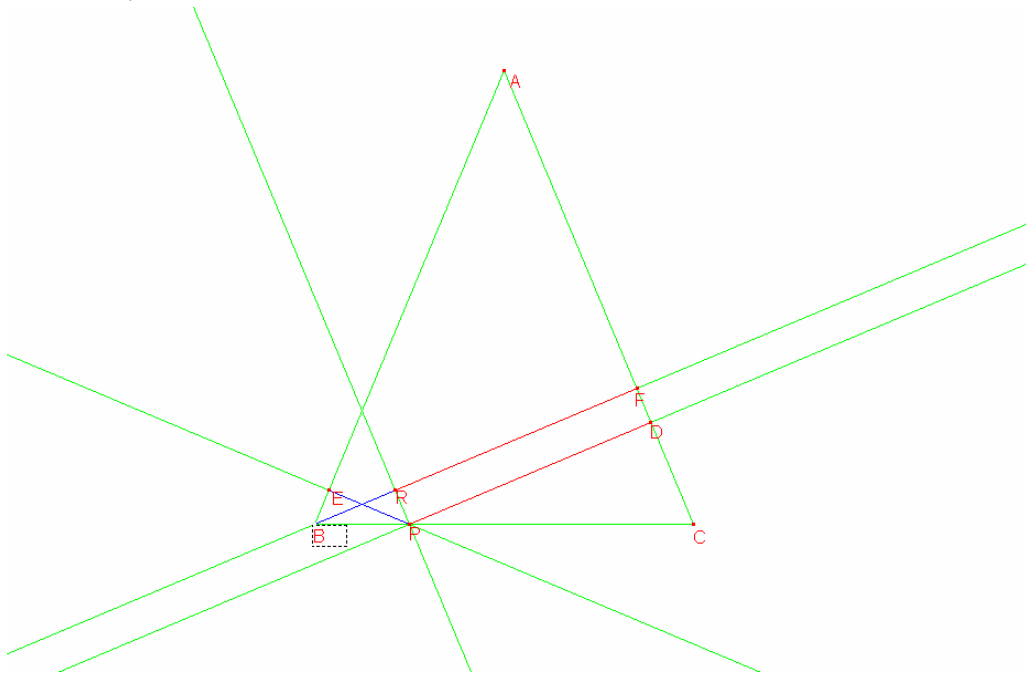
[Risulta anche]  $\angle PBE = \angle ABC$  perché angoli opposti al vertice, quindi  $\angle PBE = \angle RBP$  per la proprietà transitiva della congruenza [fra angoli].

Considero [infine] i triangoli rettangoli PRB e PBE.

[[L'angolo]]  $\angle PBE = \angle RBP$  come precedentemente dimostrato [e] PB in comune.

Quindi sono congruenti per i criteri di congruenza dei triangoli rettangoli, in particolare  $PR = PE$ , perché lati corrispondenti in triangoli congruenti.

Quindi  $PE + BF = PD$ .

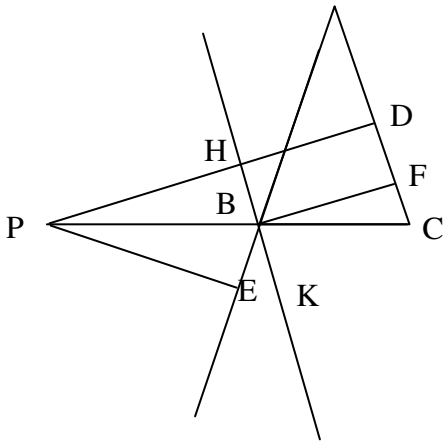


Se P fosse interno a BC, la relazione [cercata] diventerebbe  $PD = BF - PE$  perché [perché]  $RF = PD$ , per lo stesso motivo precedente (lati opposti di un rettangolo) e per dimostrare che PE congruente BR considero i triangoli rettangoli BPR e BEP:

PB in comune, l'angolo  $\angle EBP$  è congruente all'angolo  $\angle RPB$ , perché  $\angle EBP$  congruente a  $\angle ACB$  come precedentemente dimostrato,  $\angle RPB$  congruente  $\angle ACB$  per le proprietà del parallelismo [di chi?] e quindi, per la proprietà transitiva della congruenza [fra angoli]  $\angle EBP$  [è] congruente [a]  $\angle RPB$ . Perciò i due triangoli rettangoli sono congruenti per i criteri di congruenza dei triangoli rettangoli, in particolare PE congruente BR perché lati corrispondenti in triangoli congruenti.

C.V.D.

Marco Colnaghi  
 Classe 1E, LS "A. Banfi", Vimercate (MI)



Hp:  $AB=AC$   
 $PD$  perpendicolare  $AC$   
 $PE$  perpendicolare  $AB$   
 $BF$  perpendicolare  $AC$

Th:  $PD=PE+BF$

DIM: COSTRUZIONE PRELIMINARE:

Traccio la retta parallela al lato  $AC$  passante per il punto  $B$ , chiamiamo [chiamo]  $H$  il punto in cui incontra  $DP$  e  $K$  un punto sulla retta, appartenente [[alla parte di]] [al] semipiano delimitata [delimitato] da  $BC$  a cui non appartiene il punto  $A$ .

Poiché gli angoli  $\angle HDF$  e  $\angle DFB$  sono retti come l'angolo  $\angle DHB$  (perché  $HB$ , essendo parallela ad  $AC$ , sarà perpendicolare alla retta  $PD$ ) allora si ha che il quadrilatero  $HDFB$  è un rettangolo per i criteri sui rettangoli.

Essendo un rettangolo un particolare parallelogramma allora si ha che  $HD=BF$ .

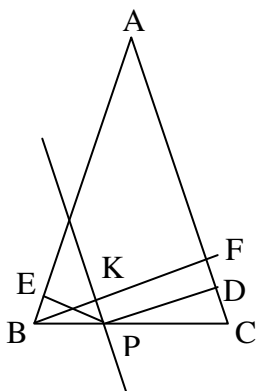
Gli angoli  $\angle ABC$  e  $\angle ACB$  sono congruenti [[per l' inverso del teorema sui triangoli isosceli]] [perché il triangolo  $ABC$  è isoscele sulla base  $BC$ ]. Ma  $\angle ACB=\angle KBC$  perché angoli alterni interni formati dalle rette parallele  $AC$  e  $HK$ , tagliate dalla trasversale  $CB$ .

Quindi  $\angle HBP=\angle EBP$  perché angoli opposti al vertice ad angoli congruenti (l'angolo  $\angle ABC$  è congruente a  $\angle KBC$  per la proprietà transitiva alla [della] congruenza [fra angoli]).

Considero ora i triangoli rettangoli  $EBP$  e  $PBH$ , essi hanno:  $PB$  in comune [e]  $\angle PBH=\angle PBE$  come precedentemente dimostrato.

Quindi i due triangoli rettangoli sono congruenti per i criteri di congruenza dei triangoli rettangoli, in particolare  $PE=PH$  perché lati corrispondenti in triangoli congruenti.

Quindi, poiché  $PH=PE$  e  $HD=BF$ , allora [risulta che]  $PD$  è congruente alla somma di  $PE$  e  $BF$ .



Hp:  $AB=AC$   
 $PD$  perpendicolare  $AC$   
 $PE$  perpendicolare  $AB$   
 $BF$  perpendicolare  $AC$   
 $P$  appartiene a  $BC$

Th:  $BF=PD+EP$

Se  $P$  fosse stato interno al lato  $BC$ :

COSTRUZIONE PRELIMINARE:

Traccio la retta parallela al lato  $AC$  passante per il punto  $P$ , questa incontra la retta  $BF$  in  $K$ .

Poiché gli angoli  $\angle PDF$  e  $\angle DFK$  sono retti come l'angolo  $\angle FKP$  (perché  $KP$ , essendo parallela ad  $AC$ , sarà perpendicolare alla retta  $PKF$  [ $KF$ ]) allora si ha che il quadrilatero  $PDFK$  è un rettangolo per i criteri sui rettangoli [quali?].

Essendo un rettangolo un particolare parallelogramma allora si ha che  $KF=PD$ .

Gli angoli  $ABC$  e  $ACB$  sono congruenti [[per l' inverso del teorema sui triangoli isosceli]] [perché il triangolo  $ABC$  è isoscele sulla base  $BC$ ]. Ma  $\angle ACB=\angle KPB$  perché angoli corrispondenti formati dalle rette parallele  $AC$  e  $PK$ , tagliate dalla trasversale  $CB$ .

Quindi  $\angle KPB=\angle KBP$  [ $\angle KPB=\angle EBP$ ] per la proprietà transitiva della congruenza [fra angoli].

Considero ora i triangoli rettangoli  $EBP$  e  $PBK$ , essi hanno:

$PB$  in comune.

$KPB=KBP$  [ $\angle KPB=\angle EBP$ ] come precedentemente dimostrato.

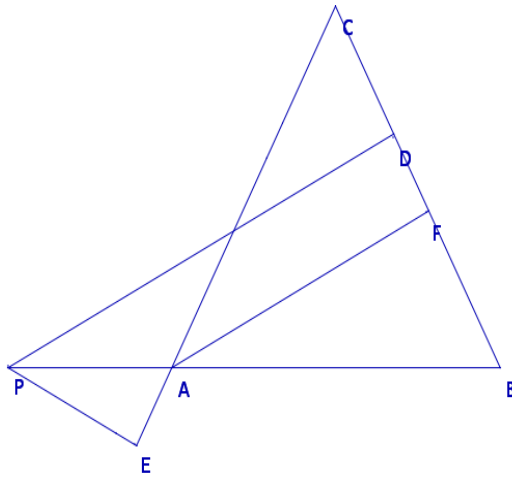
Quindi i due triangoli rettangoli sono congruenti per i criteri di congruenza dei triangoli rettangoli, in particolare  $PE=KB$  perché lati corrispondenti in triangoli congruenti.

Quindi, poiché  $KF=PD$  e  $PE=KB$ , allora [segue che]  $BF$  è congruente alla somma di  $PD$  e  $EP$ .

C.V.D



Ludovico Spada  
 Classe 1E, LS "A. Banfi", Vimercate (MI)



Hp:  $AB = BC$  [AC]  
 BF perpendicolare CA  
 PD perpendicolare CA  
 PE perpendicolare CA  
 [AB]  
 Th: relazione PD, BF e PE

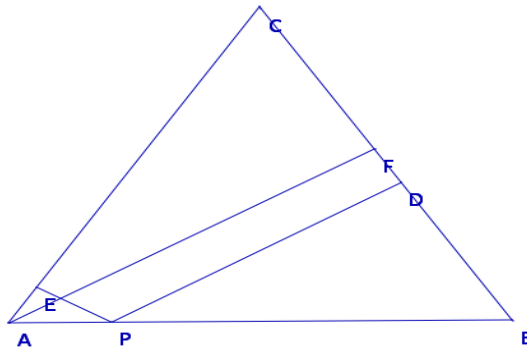
[Le etichette della figura sono totalmente sbagliate e non aderenti al testo del problema. La soluzione fa invece riferimento a una figura corretta.]

[[L'angolo]] [Risulta]  $\angle PBE = \angle ABC$  perchè [perché] angoli opposti al vertice, ma  $\angle ABC = \angle ACB$  perchè [perché] angoli alla base di un triangolo isoscele, quindi  $\angle PBE = \angle ACB$ .  
 Gli angoli  $\angle PEB$  e  $\angle BFC$  sono retti, quindi [[gli angoli]] [risulta]  $\angle EPB = \angle FBC$  [perché?].  
 I triangoli PBE, FCB e PDC sono simili [simili] perchè [perché] hanno tutti e tre gli angoli [corrispondenti] congruenti.  
 Quindi vale la seguente equazione:

Proporzioni tra due lati dei triangoli PDC e BFC	$\frac{PD}{BF} = \frac{BC + PB}{BC}$
Proporzioni tra due lati dei triangoli BFC e PEB	$\frac{PD}{BF} = 1 + \frac{PB}{BC}$
Semplifica delle espressioni	$\frac{BF \cdot PB}{PE} = BC$
sostituendo la prima soluzione con la seconda soluzione	$\frac{PD}{BF} = 1 + \frac{PB \cdot PE}{BF \cdot PB}$
	$\frac{PD}{BF} = \frac{BF + PE}{BF}$
	$PD = BF + PE$

Quindi la relazione [cercata] è [[che]]  $PD = BF + PE$ .

Se il punto P fosse interno al lato BC:



Hp:  $AB = BC$  [AC]  
 BF perpendicolare CA  
 PD perpendicolare CA  
 PE perpendicolare CA  
 [AB]  
 Th: relazione PD, BF e PE

[Le etichette della figura sono totalmente sbagliate e non aderenti al testo di problema. La soluzione fa invece riferimento a una figura corretta.]

[[L'angolo]] [Risulta]  $\angle EBP = \angle DCP$ , perchè [perché] angoli alla base di un triangolo isoscele, ma [[l'angolo]]  $\angle BEP = \angle PDC$  perchè [perché] entrambi retti.

Quindi gli angoli  $\angle EPB$  e  $\angle DPC$  sono congruenti.

Gli angoli  $\angle FCP$  e  $\angle DCP$  sono congruenti perchè [perché] in comune [coincidenti], quindi sono congruenti a  $\angle EBP$ .

Gli angoli  $\angle BFC$  e  $\angle PDC$  sono entrambi retti, quindi sono congruenti.

Gli angoli  $\angle BFC$ ,  $\angle PDC$  e  $\angle BEP$  sono congruenti.

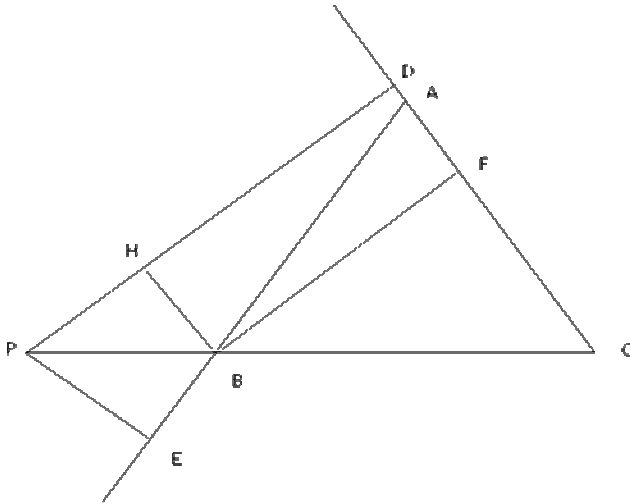
Di conseguenza i triangoli PDC, CFB e PEB sono simili.

Quindi vale la seguente equazione:

Proporzioni tra due lati dei triangoli PDC e BFC	$\frac{PD}{BF} = \frac{BC - PB}{BC}$
Proporzioni tra due lati dei triangoli BFC e PEB	$\frac{PD}{BF} = 1 - \frac{PB}{BC}$
Semplifica delle espressioni sostituendo la prima soluzione con la seconda soluzione	$\frac{BF}{PE} = \frac{BC}{PB}$
	$\frac{BF \cdot PB}{PE} = BC$
	$\frac{PD}{BF} = 1 - \frac{PB \cdot PE}{BF \cdot PB}$
	$\frac{PD}{BF} = \frac{BF - PE}{BF}$
	$PD = BF - PE$

Quindi la relazione [cercata] [[non vale più e adesso]] è [ora]  $PD = BF - PE$ .

Lorenzo Sala  
 Classe 1E, LS "A. Banfi", Vimercate (MI)



**Ipotesi:** ABC triangolo isoscele [AB = AC]  
 $PD \perp AC$   
 $PE \perp AE$   
 $BF \perp AC$   
**Tesi:**  $PE + BF = PD$

**Dimostrazione:** Per le proprietà dei triangoli isosceli l'angolo  $\angle ABC$  è congruente all'angolo  $\angle ACB$  in quanto angoli alla base in un triangolo isoscele. I triangoli rettangoli BCF e PCD hanno congruenti i due angoli retti e hanno in comune l'angolo  $\angle PCA$ , quindi, poiché la somma degli angoli interni di un triangolo è sempre un angolo piatto, gli angoli  $\angle DPC$  e  $\angle FBC$  sono congruenti. Ma l'angolo  $\angle PBE$  è opposto al vertice dell'angolo  $\angle ABC$ , quindi, per la proprietà transitiva della congruenza [fra angoli], gli angoli  $\angle PBE$  e  $\angle ACB$  sono congruenti. I triangoli rettangoli PBE e PCD hanno congruenti i due angoli retti e hanno congruenti gli angoli PBE e ACB come precedentemente dimostrato, quindi, poiché la somma degli angoli interni di un triangolo è sempre un angolo piatto, gli angoli BPE e CPD sono congruenti.

Traccio la perpendicolare a PD passante per B [e indico con H il punto di intersezione con PD].

Considero i triangoli rettangoli PBE e PHB essi hanno: gli angoli  $\angle BPE$  e  $\angle BPH$  congruenti, come precedentemente dimostrato, e PB in comune.

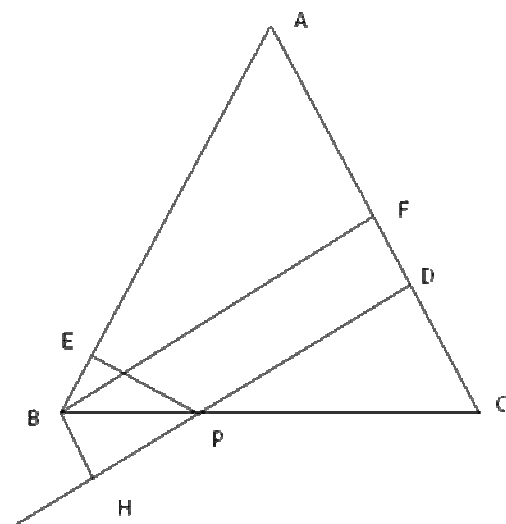
Quindi sono congruenti per i criteri di congruenza dei triangoli rettangoli, in particolare PE è congruente a PH perché lati corrispondenti in triangoli congruenti.

Il quadrilatero Hbfd è un rettangolo per i criteri dei rettangoli [quali?] in quanto avente tre angoli retti ( $\angle BHD$  per costruzione,  $\angle BFD$  e  $\angle HDF$  per ipotesi), quindi, per le proprietà dei rettangoli, i lati opposti BF e HD sono congruenti.

Come precedentemente dimostrato,  $PE = PH$  e  $BF = HD$ . Ma  $PD = PH + HD$ , quindi  $PE + BF = PD$ .

C.V.D.

**Se P appartiene a BC**



**Ipotesi:** ABC triangolo isoscele [AB = AC]  
 $PD \perp AC$   
 $PE \perp AE$   
 $BF \perp AC$   
**Tesi:**  $PE + PD = BF$

**Dimostrazione:** Prolungo PD e chiamo H il punto in cui la perpendicolare a PD passante per B incontra la retta PD.

Per le proprietà dei triangoli isosceli l'angolo  $\angle ABC$  è congruente all'angolo  $\angle ACB$  in quanto angoli alla base in un triangolo isoscele. I triangoli rettangoli PEB e PCD hanno congruenti i due angoli retti e hanno congruenti  $\angle EBP$  e  $\angle ACB$ , quindi, poiché la somma degli angoli interni di un triangolo è sempre un angolo piatto, gli angoli  $\angle EPB$  e  $\angle DPC$  sono congruenti. Ma l'angolo  $\angle BPH$  è opposto al vertice dell'angolo  $\angle DPC$ , quindi  $\angle BPH$  è congruente ad  $\angle ACB$  [ $\angle DPC$ ], perciò per la proprietà transitiva della congruenza [fra angoli], gli angoli  $\angle BPH$  e  $\angle EPB$  sono congruenti.

Considero i triangoli rettangoli PBE e PHB essi hanno: gli angoli  $\angle BPE$  e  $\angle BPH$  congruenti come precedentemente dimostrato e PB in comune.

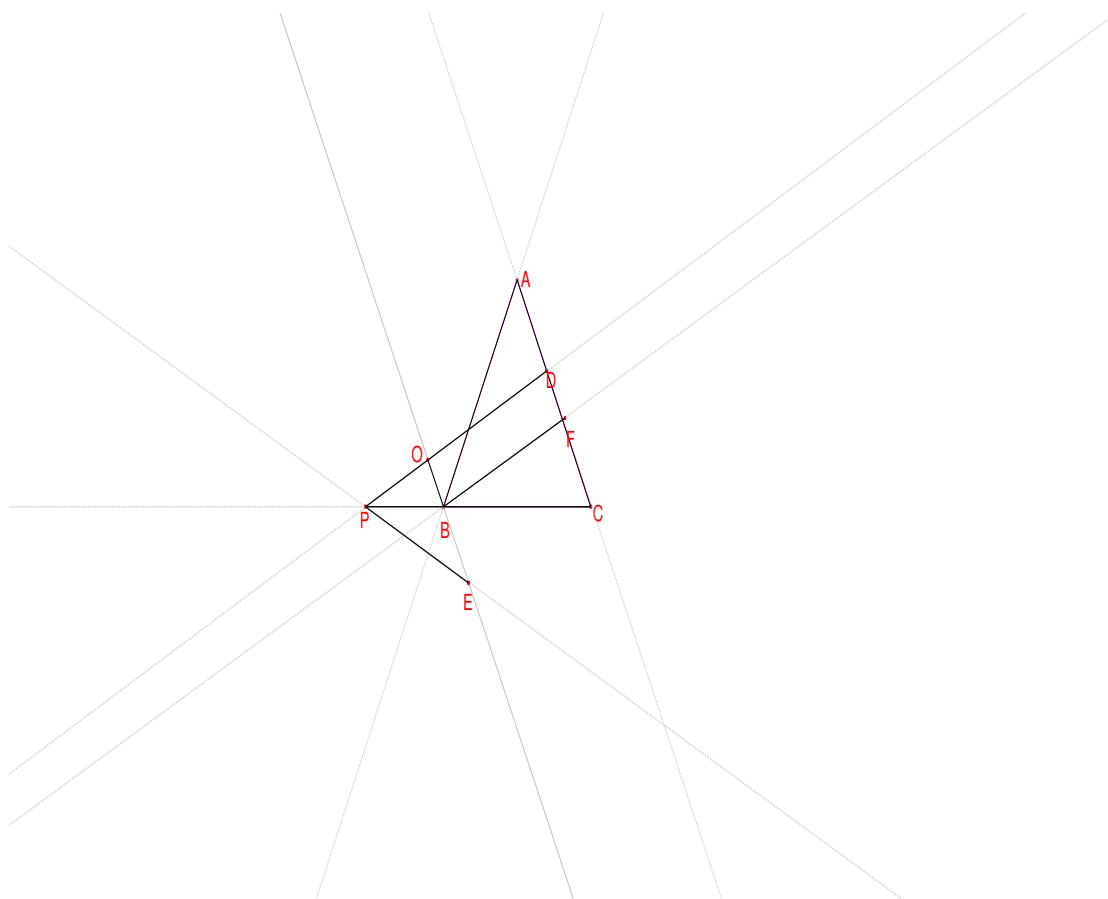
Quindi sono congruenti per i criteri di congruenza dei triangoli rettangoli, in particolare PE è congruente a PH perché lati corrispondenti in triangoli congruenti.

Il quadrilatero Hbfd è un rettangolo per i criteri dei rettangoli [quali?] in quanto avente tre angoli retti; quindi, per le proprietà dei rettangoli, i lati opposti BF e HD sono congruenti.

Come precedentemente dimostrato, PE=PH e BF=HD. Ma PD+PH=HD, quindi PE+PD=BF.

C.V.D.

### **Classe 2B, LS "Pitagora", Rende (CS)**



[La figura è completamente sbagliata in quanto non rispetta le condizioni poste dal problema: in particolare PD non è perpendicolare alla retta di AC, PE non è perpendicolare alla retta di AB, ecc. ...]

1) Facendo delle prove sulla figura con il Cabri [Cabri], osservo che  $PD \cong PE + BF$ ; infatti  $OD \cong BF$  [come è stato individuato il punto O?] perché lati opposti del rettangolo [perché tale quadrilatero è rettangolo?] OBDF [OBFD].

Dimostro che  $PO \cong PE$ .

Considero i triangoli  $POB$  e  $PEB$ . Essi hanno:

$\angle PEB \cong \angle POB$  [ $\angle PEB \cong \angle POB$ ] perché retti.

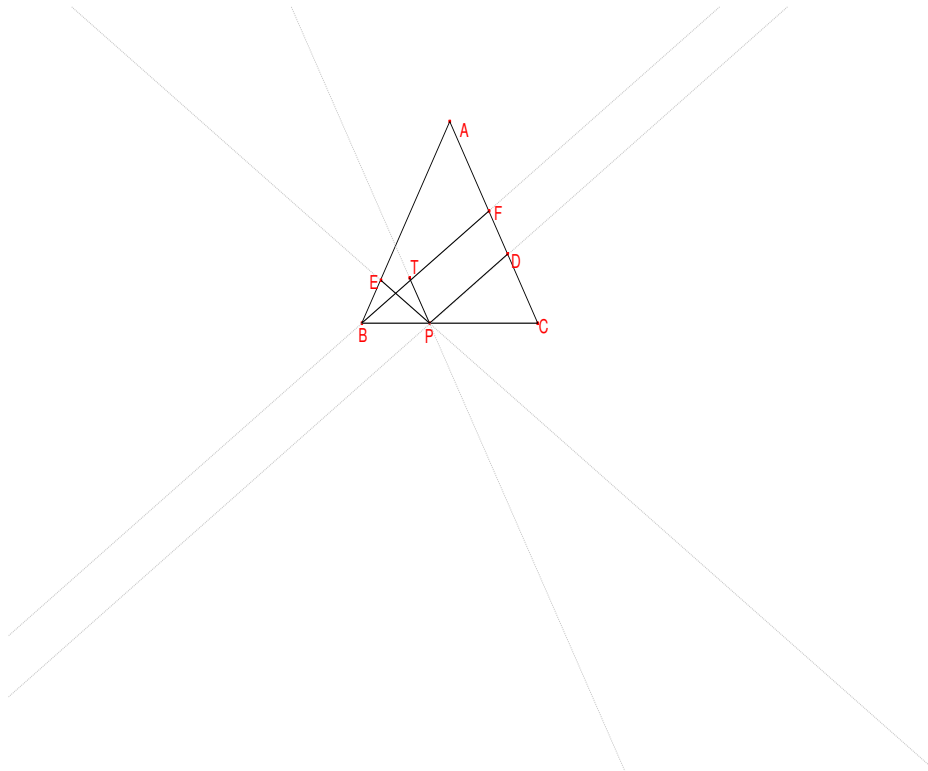
$PB$  è in comune.

$\angle OPB \cong \angle BPE$  [ $\angle OPB \cong \angle BPE$ ] per differenza di angoli in quanto,  $\angle PBE \cong \angle ABC$  [ $\angle PBE \cong \angle ABC$ ] perché opposti al vertice e  $\angle ABC \cong \angle ACB$  [ $\angle ABC \cong \angle ACB$ ] perché angoli alla base di [del triangolo isoscele]  $ABC$ .

I due triangoli sono congruenti per il II criterio di congruenza.

Di conseguenza [conseguenza]:

$PO \cong PE$



[Anche questa figura è completamente sbagliata in quanto non rispetta le condizioni poste dal problema]

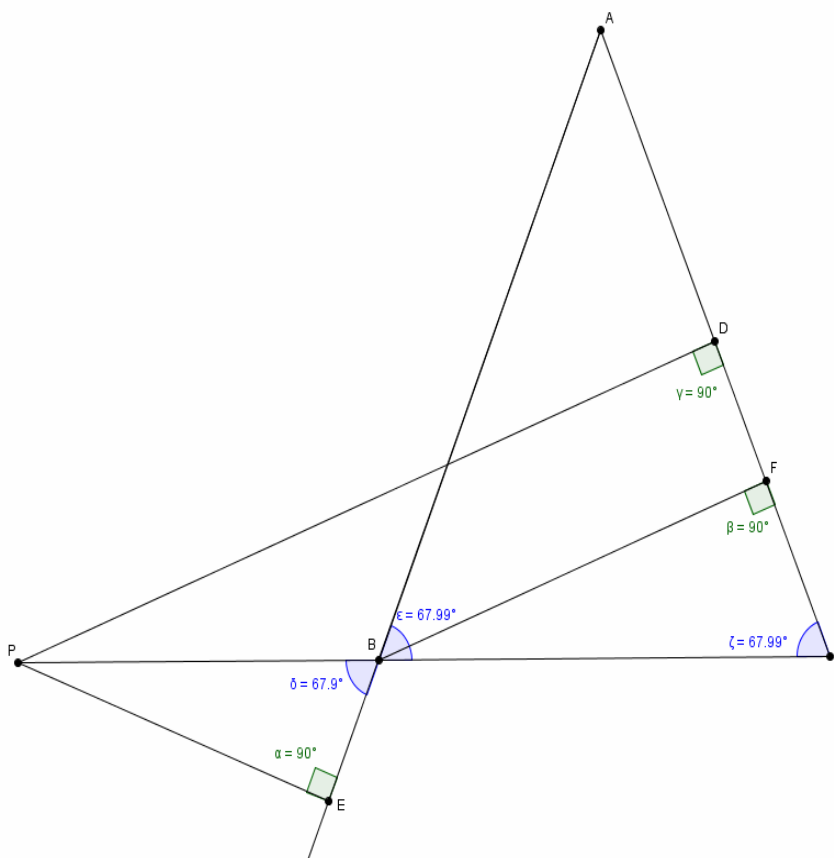
2) Nel secondo caso  $P$  appartiene a  $BC$ .

Traccio da  $P$  la perpendicolare  $PT$  a  $BF$ . Considero i triangoli  $BEP$  e  $BPT$ .

Essi hanno:  $\angle PEB \cong \angle PTB$  [ $\angle PEB \cong \angle PTB$ ] perché retti e  $BP$  è in comune.  $\angle TPB \cong \angle EBP$  [ $\angle TPB \cong \angle EBP$ ] perché entrambi congruenti a  $\angle DCP$  [ $\angle DCP$ ]; infatti  $\angle EBP \cong \angle DCP$  [ $\angle EBP \cong \angle DCP$ ] perché angoli alla base del triangolo  $ABC$ , mentre  $\angle TPB \cong \angle DCP$  [ $\angle TPB \cong \angle DCP$ ] perché corrispondenti rispetto le parallele  $AC$  e  $TP$  [perché  $AC$  e  $TP$  sono parallele?] tagliate da  $BC$ .

I triangoli sono congruenti per il II criterio generalizzato e in particolare  $EP \cong BT$ .

$PD \cong TF$  perché lati opposti del rettangolo  $TPDF$  [perché il quadrilatero  $TPDF$  è un rettangolo?], quindi  $BF \cong PD + EP$ .



**1) P esterno a BC**

**HP/AB = AC** [  $\angle CBA = \angle ACB$  ]  
 $\angle BFC = \angle PDC = \angle BEP = 90^\circ$

**TH/** Relazione tra i segmenti PD, PE e BF  
 [  $BF + PE = PD$  ]

Prendendo in considerazione i triangoli PDC, BFC e BEP, possiamo affermare che sono simili in quanto hanno:

- Gli angoli  $\angle BEP$ ,  $\angle BFC$  e  $\angle PDC$  uguali poiché retti
- Gli angoli  $\angle ACB$ ,  $\angle CBA$  e  $\angle PBE$  uguali poiché  $\angle B = \angle C$  perché il triangolo ABC è isoscele [sulla base BC] e  $\angle PBE = \angle CBA$  perché opposti al vertice

Di conseguenza i lati dei tre triangoli sono tutti in proporzione tra loro . Allora:

$PE : PD = PB : (PB + BC)$  [Facendo riferimento ai triangoli PBE e PCD]

$PE : BF = PB : BC$  [Facendo riferimento ai triangoli PBE e BCF]

Quindi:

a.  $(PB + BC) : PB = PD : PE$  [Facendo riferimento ai triangoli PBE e PCD]

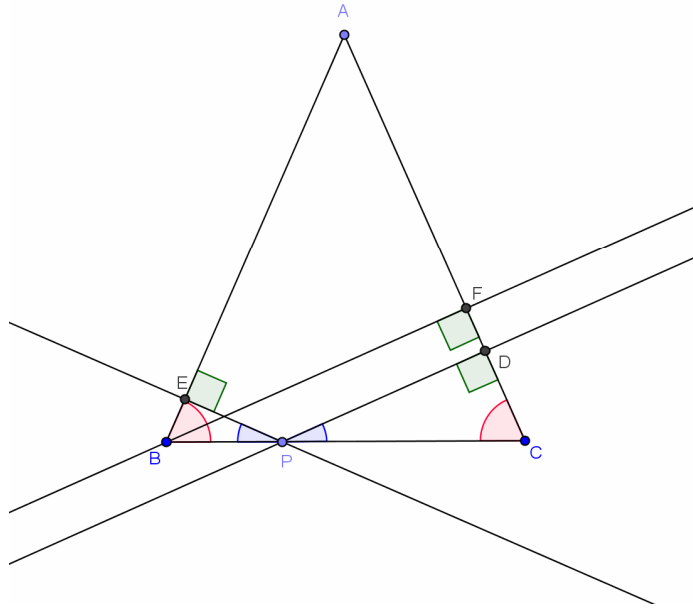
b.  $BC : PB = BF : PE$  [Facendo riferimento ai triangoli PBE e BCF]

Applicando la proprietà del componendo [comporre] a quest'ultima proporzione:

c.  $(BC + PB) : PB = (BF + PE) : PE$

In conclusione, considerando le proporzioni a e c e per l'unicità del quarto proporzionale: **BF + PE = PD**

**1) P interno a BC**



**HP/**  $AB = AC$  [ $\angle CBA = \angle ACB$ ]  
 $\angle BFC = \angle PDC = \angle BEP = 90^\circ$   
 $P \in BC$

**TH/** Relazione tra i segmenti PD, PE e BF  
 $[PD = BF - PE]$

Consideriamo i triangoli BPE e PCD che sono simili perché:

- $\angle EBP = \angle DCP$  per ipotesi, perché ABC è isoscele [sulla base BC];
- $\angle BEP = \angle CDP = 90^\circ$ .

Consideriamo ora i triangoli BPE e BFC che sono simili perché:

- $\angle BEP = \angle BFC = 90^\circ$ ;
- $\angle EBP = \angle FCB$  per ipotesi.

Considerando i triangoli simili EPB e PCD possiamo impostare la seguente proporzione:

$$PD:PE = PC:PB.$$

Possiamo però vedere PC come differenza tra BC e PB, quindi:

$$PD:PE = (BC - PB):PB$$

Considerando ora i triangoli simili BFC e BEP possiamo impostare la seguente proporzione:

$$BC:PB = BF:PE.$$

Applichiamo ora la proprietà dello scomporre e otteniamo:

$$(BC - PB):PB = (BF - PE):PE.$$

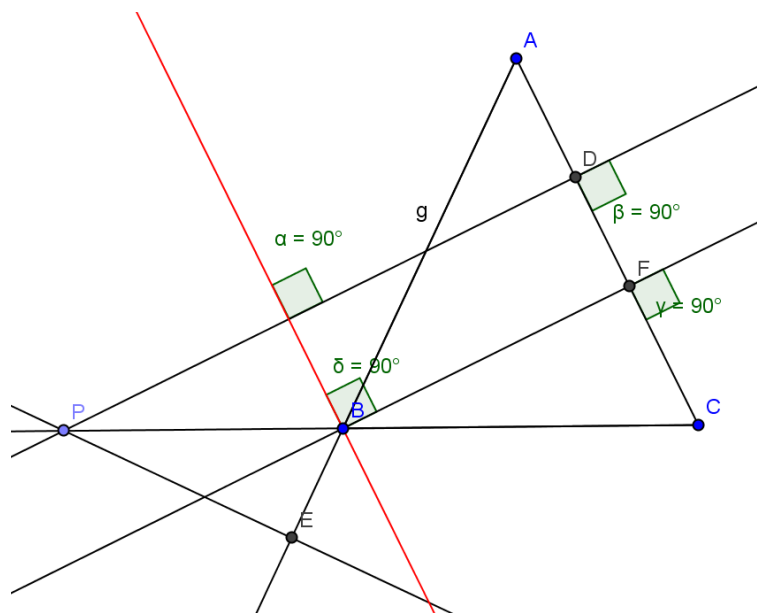
Notiamo che in entrambe le proporzioni troviamo un membro uguale cioè  $(BC - PB):PB$ .

Perciò possiamo dire che:

$$PD:PE = (BF - PE):PE.$$

Essendo  $PE$  presente in entrambi i membri [i conseguenti della proporzione uguali], allora:

$$PD = BF - PE.$$



P esterno a BC

Hp.  $AB \cong AC$   
 $PD \perp AC$ ,  $PE \perp AB$   
 $BF \perp AC$

Th. relazione che intercorre tra  $PD$ ,  $PE$ ,  $BF$  [ $PD \cong PE + BF$ ]

Dimostrazione:

$\widehat{ABC} \cong \widehat{ACB}$  per Hp,  $\widehat{PBE} \cong \widehat{ABC}$  poichè [poiché] opposti al vertice  $\Rightarrow \widehat{ACB} \cong \widehat{PBE}$  per la proprietà transitiva della congruenza [fra gli angoli].

Il triangolo [Per i triangoli vale la relazione]  $\widehat{PDC} \cong \widehat{PBE}$  perché [[l'angolo]]  $\widehat{PEB} \cong \widehat{PDC}$  perché retti per Hp e perché [[l'angolo]]  $\widehat{ACB} \cong \widehat{BPE}$  come dimostrato in precedenza

$\Rightarrow$  [[l'angolo]]  $\widehat{BPE} \cong \widehat{DPC}$ .

Costruiamo  $LB \perp PD$  [nella figura manca il punto L],  $LB \perp BF$  [perché?], si ha che  $BF \parallel PD$  perché perpendicolari alla stessa retta  $AC$

$\Rightarrow LB \parallel DF$  perché perpendicolari alla stessa retta  $PD$ , con  $PD \perp AC$  e  $BF \perp AC$  per Hp

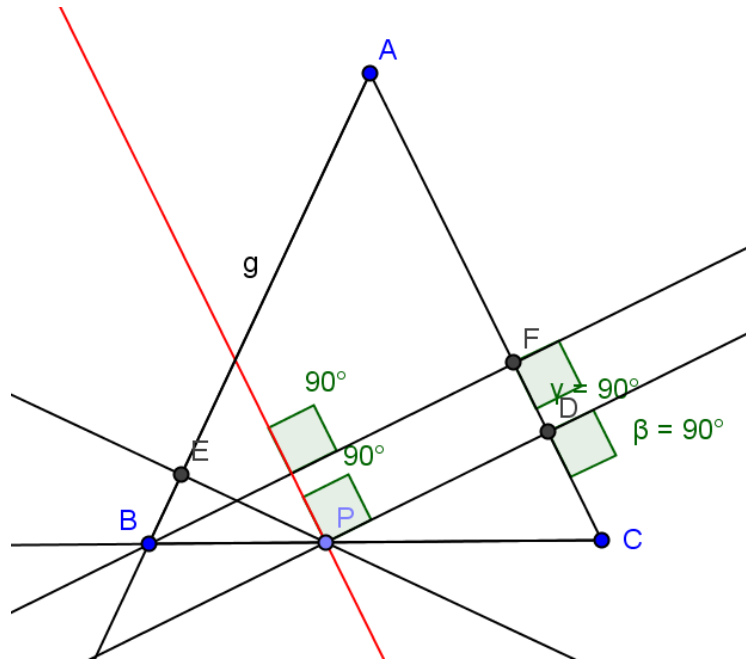
$\Rightarrow Lbfd$  è un rettangolo  $\Rightarrow LD \cong BF$  [ $LD \cong BF$ ]

$\Rightarrow$  il triangolo  $LPB \cong PBE$  [il triangolo  $LPB$  è simile al triangolo  $EPB$ ] perché [[l'angolo]]

$\widehat{PLB} \cong \widehat{PEB}$  poiché retti e [[l'angolo]]  $\widehat{LPB} \cong \widehat{BPE}$  come dimostrato in precedenza e  $PB \cong PB$  [ $PB \cong PB$ ] per proprietà riflessiva della congruenza [fra segmenti]

$\Rightarrow PL \cong PE$  [ $PL \cong PE$ ]  $\Rightarrow PD = PL + LD \Rightarrow PD \cong PE + BF$  [ $PD \cong PE + BF$ ] (c.v.d.)





P interno a BC

Dimostrazione:

costruiamo  $IP \perp FB$  [nella figura manca il punto I],  $IP \perp PD$  [perché?]

$FD \perp BP$  [ $FD \perp BF$ ] per  $H_p \Rightarrow IP \parallel FD$  perché [perché] perpendicolari alla stessa retta BF

$BF \perp AC$ ,  $PD \perp AC$  per  $H_p \Rightarrow BF \parallel PD$  perché [perché] perpendicolari [perpendicolari] alla stessa retta AC

$\Rightarrow IPDF$  è un rettangolo  $\Rightarrow IF \cong PD$  [ $IF \cong PD$ ]

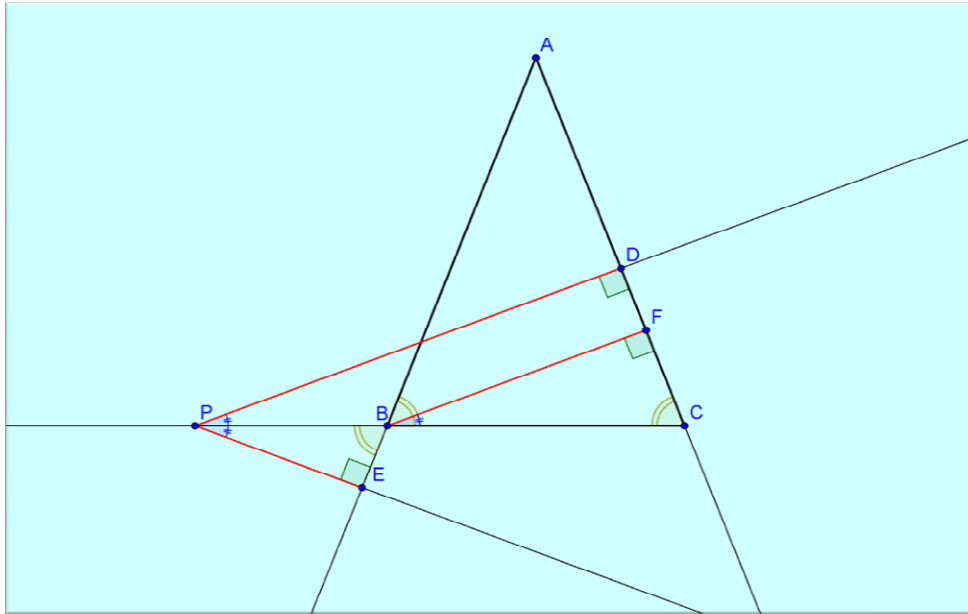
L'angolo [Per gli angoli risulta]  $\widehat{BPI} \cong \widehat{ACB}$  perché angoli corrispondenti formati dalle rette [parallele]  $FC \parallel PI$  [FC e PI] tagliate dalla trasversale BC e [[l'angolo]]  $\widehat{ACB} \cong \widehat{ABC}$  per  $H_p$

$\Rightarrow$  [[l'angolo]]  $\widehat{ABC} \cong \widehat{BPI}$  per la proprietà transitiva della congruenza [fra angoli]

Il triangolo  $EBP \cong IBP$  [I triangoli EBP e IBP sono congruenti] perché:

- [[L'angolo]]  $\widehat{IPB} \cong \widehat{ABC}$  come dimostrato in precedenza
- [[L'angolo]]  $\widehat{BEP} \cong \widehat{BIP}$  perché retti
- $BP \cong BP$  [ $BP \cong BP$ ] per proprietà riflessiva della congruenza [fra segmenti]

$\Rightarrow EP \cong IB$  [ $EP \cong IB$ ]  $\Rightarrow BF \cong IB + IF$  [ $BF \cong IB + IF$ ]  $\Rightarrow BF \cong PE + PD$  [ $BF \cong PE + PD$ ] (c.v.d.)



Abbiamo:

$$\overline{PD} = \overline{PC} \frac{\overline{PD}}{\overline{PC}}; \overline{BF} = \overline{BC} \frac{\overline{BF}}{\overline{BC}}; \overline{PE} = \overline{PB} \frac{\overline{PE}}{\overline{PB}}$$

Ora, vediamo che:  $\widehat{PDC} \cong \widehat{BFC} \cong \widehat{PEB} \cong \widehat{R}$  [perché angoli retti] Per ipotesi;

$\widehat{DCP} \cong \widehat{ABC} \cong \widehat{PBE}$  Perché angoli alla base di un triangolo isoscele e opposti al vertice;

Di conseguenza i triangoli  $PDC; BFC$  e  $PBE$  sono simili perché [perché] aventi 3 angoli rispettivamente isometrici.

Di conseguenza:

$$\frac{\overline{PD}}{\overline{PC}} = \frac{\overline{BF}}{\overline{BC}} = \frac{\overline{PE}}{\overline{PB}} = \cos \widehat{DPC}$$

Per comodità chiameremo questo valore  $\varepsilon$ .

Quindi:

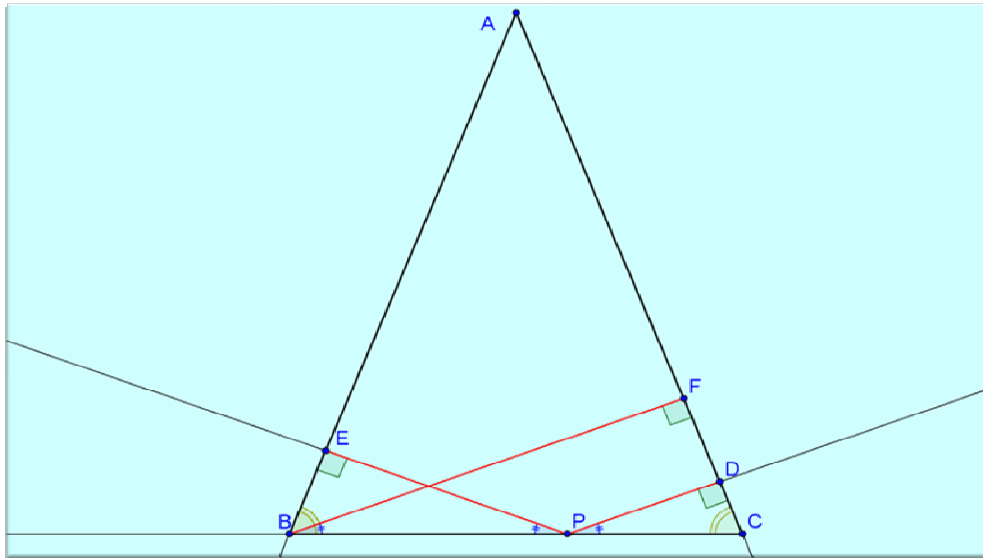
$$\overline{PD} = \varepsilon \overline{PC} = \varepsilon (\overline{PB} + \overline{BC}) = \varepsilon \overline{PB} + \varepsilon \overline{BC} = \overline{PE} + \overline{BF}$$

Oppure, usando funzioni trigonometriche:

$$\overline{PD} = \overline{PC} \cos \widehat{DPC} = \overline{PB} \cos \widehat{DPC} + \overline{BC} \cos \widehat{DPC} = \overline{PE} + \overline{BF}$$

Quindi:

$$\overline{PD} = \overline{PE} + \overline{BF}$$



In caso  $P$  sia interno a  $BC$ , i triangoli  $PDC, BFC$  e  $PBE$  rimangono simili e i rapporti tra i lati sono invariati, quindi abbiamo:

$$\begin{aligned} \overline{PD} &= \overline{PC} \cos \widehat{DPC} = (\overline{BC} - \overline{PB}) \cos \widehat{DPC} = \overline{BF} - \overline{PE} \\ \Rightarrow \overline{PD} &= \overline{BF} - \overline{PE} \end{aligned}$$

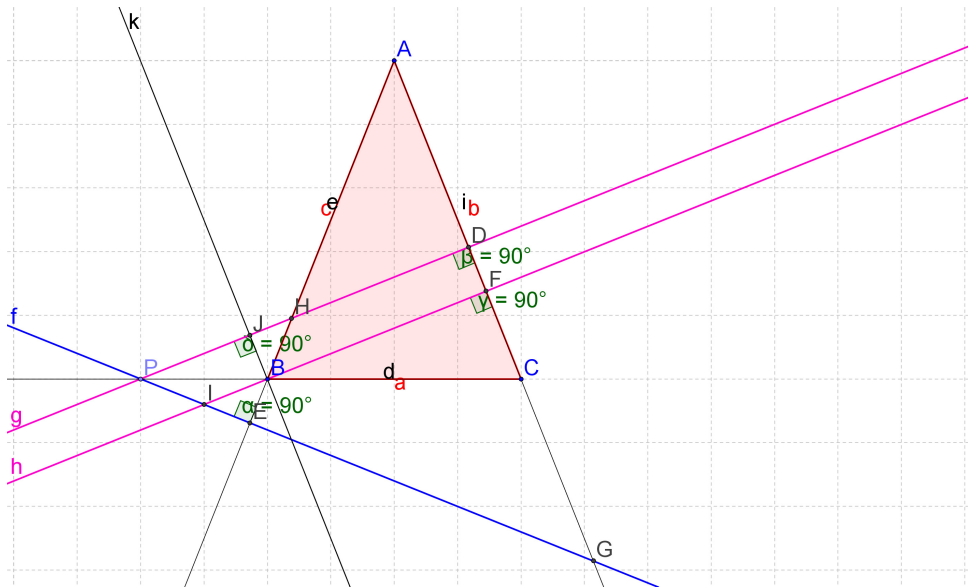
*Alessio Sela*  
*Classe 3F, LS "P.Paleocapa", Rovigo (RO)*

### **Risoluzione 1° caso**

Dal disegno qui sotto riportato si può notare che essendo  $PD \perp AC$  e  $BF \perp AC$ , per transitività [la relazione di perpendicolarità (tra rette) non è transitiva],  $PD \parallel BF$  [perché rette perpendicolari a una stessa retta sono tra loro parallele]. Traccio da  $B$  una [la] retta  $\perp$  [perpendicolare] a  $PD$  e trovo  $J$  [indico con  $J$  il punto di intersezione di tale retta con  $PD$ ] e posso dire che  $BF = PD - PJ$  poichè [poiché]  $BJDF$  è un rettangolo [perché?] e quindi  $JD = BF$ .

Analizzando i 2 triangoli  $PJB$  e  $PEB$  posso dire che sono isometrici [perché?].

Quindi  $PJ = PE \Rightarrow \mathbf{BF = PD - PE}$



**Risoluzione 2° caso**

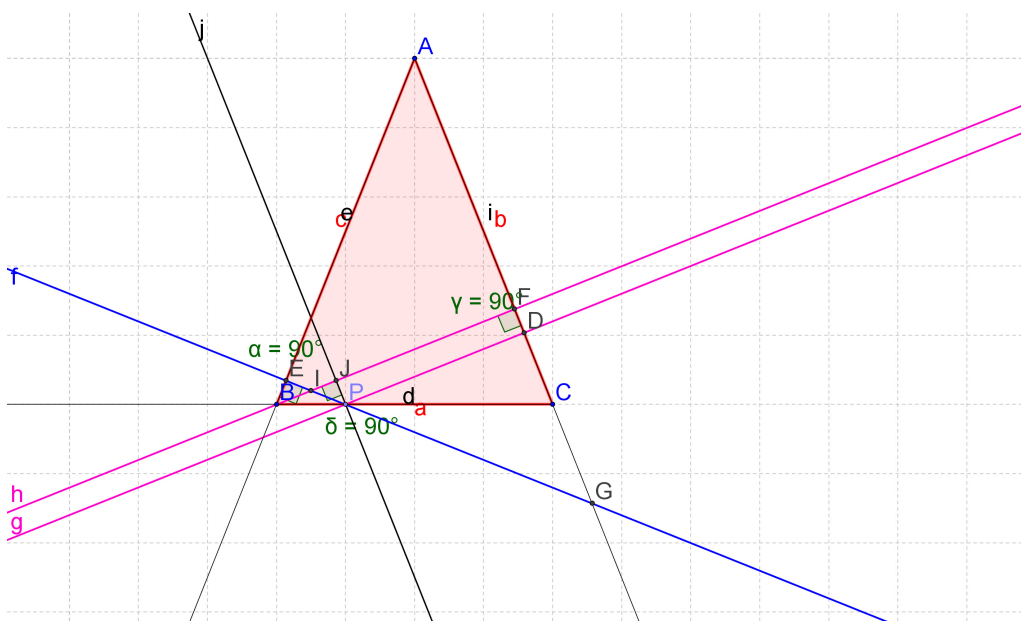
Nel caso in cui P sia interno a BC, la relazione cambia in quanto  $BF > PD$ , mentre prima [nel caso precedente]  $BF < PD$ .

Poiché PJFD è un rettangolo, essendo gli angoli  $JFD = FDP = PJF = 90^\circ$  poiché [in quanto] rispettivamente  $JF \perp FD$  e  $PD \perp DF$  e  $BJ \perp JP$ , [di conseguenza]  $JF = PD$ .

Confrontando i triangoli BEP e BJP posso dire che sono isometrici poiché hanno PB in comune e  $BEP = BJP = 90^\circ$  poiché  $BJ \perp JP$  e  $PE \perp EB$ , deduco quindi che  $PE = BJ$  [non è sufficiente per avere l'isometria dei triangoli].

Sapendo che  $BF = BJ + JF$  e che  $BJ = PE$  e  $JF = PD$ , posso infine dedurre che

**$BF = PE + PD$**



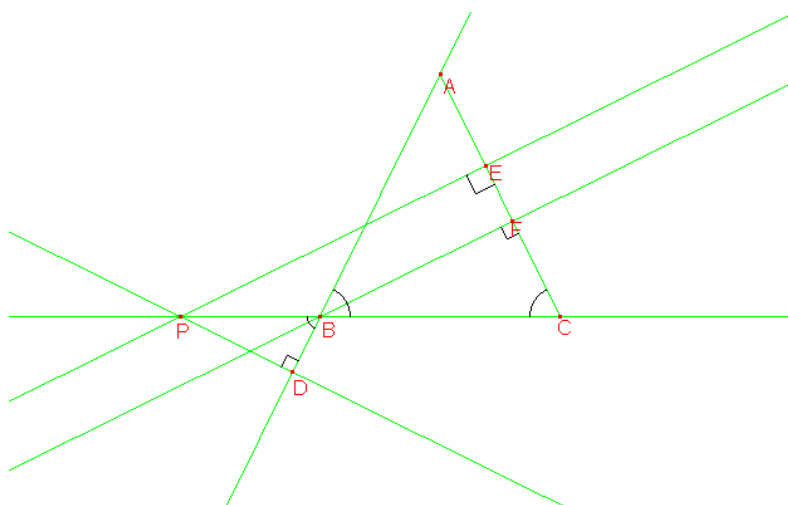
**Classe 3E, LS "Aristosseno", Taranto (TA)**

Dalla figura si osserva che i triangoli rettangoli PEC, BFC e PDB sono simili. I primi due triangoli rettangoli hanno infatti l'angolo  $\angle BCA$  in comune ed essendo  $\angle BCA = \angle ABC$  perché il triangolo dato è isoscele [sulla base BC] e  $\angle ABC = \angle PBD$  perché angoli opposti al vertice, anche il terzo triangolo PDB è simile agli altri due. La proporzionalità fra lati omologhi che sussiste fra triangoli simili ci porta a scrivere la proporzione seguente:  $PE : PC = BF : BC = PD : PB$ .

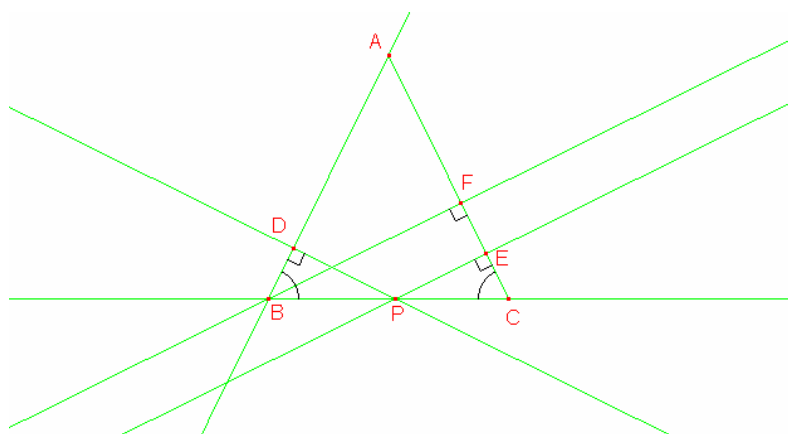
Applicando la proprietà dello scomporre alla prima proporzione si ha:

$(PE - BF) : (PC - BC) = BF : BC$  ovvero  $(PE - BF) : PB = BF : BC$  [(PE - BF) : PB = BF : BC] e poiché  $BF : BC = PD : PB$  dal confronto di queste ultime due proporzioni, per la proprietà transitiva dell'uguaglianza di rapporti, si ha:

$(PE - BF) : PB = PD : PB$ . In questa ultima proporzione sono uguali i conseguenti e perciò sono anche uguali gli antecedenti, cioè:  $PE - BF = PD$ .



Se il punto P è preso internamente al lato BC del triangolo la relazione cambia.



In questo caso, infatti, restando il fatto che i tre triangoli rettangoli sono simili, si avranno le proporzioni seguenti:  $BF : BC = PD : PC = PE : BP$  [ $BF : BC = PD : PB = PE : PC$ ]

Applicando ancora la proprietà dello scomporre alla prima di queste si ottiene:

$(BF - PD) : (BC - PC) = PD : PC$  [(BF - PD) : (BC - PB) = PD : PB] ovvero  $(BF - PD) : BP = PD : PC$  [(BF - PD) : PC = PD : PB] poiché  $PD : PC = PE : BP$  [ $PD : PB = PE : PC$ ] per la proprietà transitiva si ha:  $(BF - PD) : BP = PE : BP$  [(BF - PD) : PC = PE : PC] e da questa deduciamo che  $BF - PD = PE$  [BF - PD = PE].